



Uppgift 1

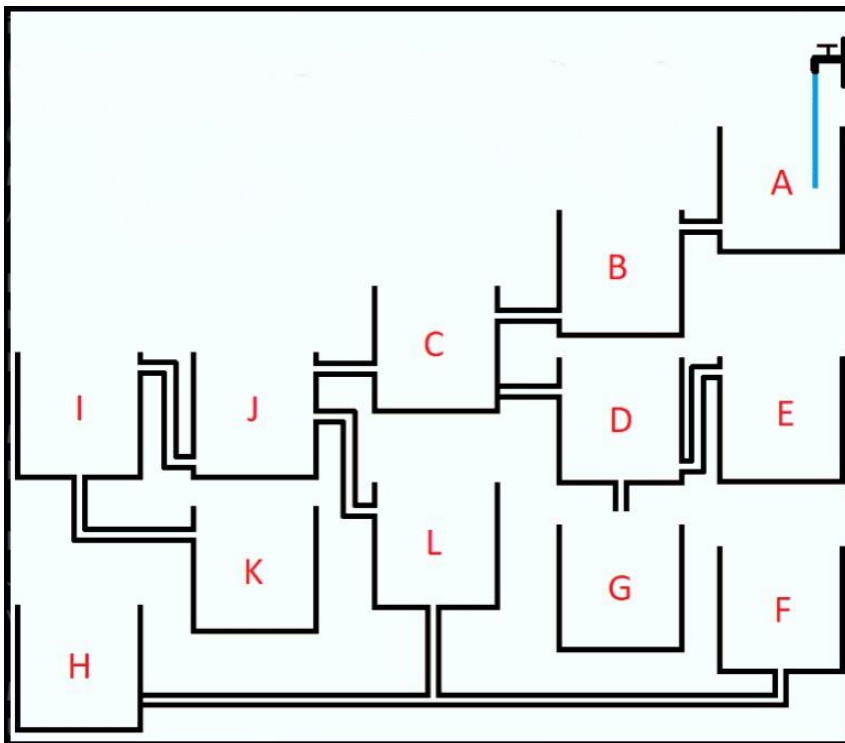
Vilket tal ligger halvvägs mellan $\frac{1}{4}$ och $\frac{7}{15}$?

- A) $\frac{43}{120}$ B) $\frac{43}{60}$ C) $\frac{28}{60}$ D) $\frac{37}{120}$

Uppgift 2

Vilket glas blir det näst första glaset som fylls helt när vi antar att bildkanten bildar en stängd ruta?

- A) G B) K C) H D) F



Uppgift 3

Hur stor del av cirkeln är grå?



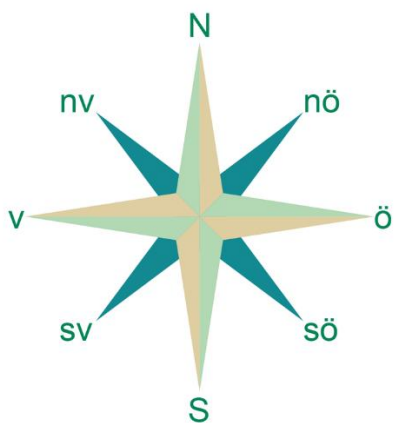
- A) 30% B) 40% C) 50% D) 60%

Uppgift 4

En klocka med visare placeras på ett bord så att timvisaren pekar mot sydost.

Hur många minuter tar det innan timvisaren först pekar mot nordväst?

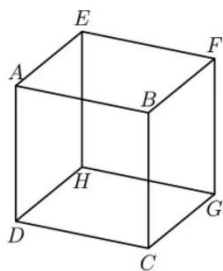
- A) 340 min B) 360 min C) 720 min D) 740 min



Uppgift 5

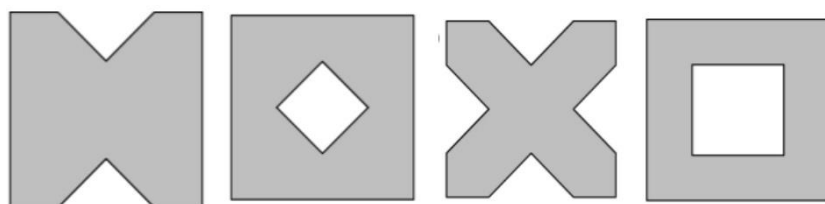
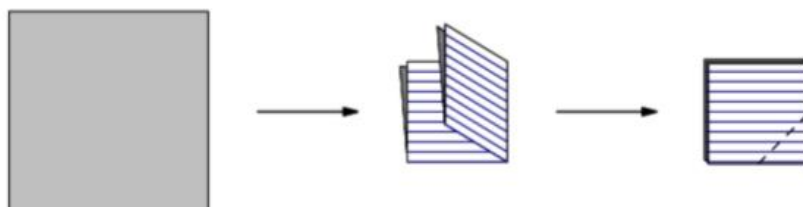
Hur många par parallella kanter som AB och GH, eller EH och FG, har en kub?

- A) 6 B) 12 C) 18 D) 24



Uppgift 6

Om vi viker ett ark och skär av ett hörn som visas nedan. Vilket mönster får vi när vi viker ut lakanet?



- A) B) C) D)



Klass: _____ Skola: _____

Svarsblad:

Uppgift:	A	B	C	D
1.				
2.				
3.				
4.				
5.				
6.				